





Werkkaart: Woensdag, 13 Mei 2020

1. Terugtel in veelvoude van 4 • • • •

a.	216		208		200			188	
b.	452			440	436				420

2. Groepering: Maak groepe. Trek sirkels om elke groep.

<p>a </p> <p>Gropeer 24 vliegtuie in groepe van 6.</p> <p>= ____ groepe</p>	<p>b </p> <p>Gropeer 18 gesigte in groepe van 3.</p> <p>= ____ groepe</p>
<p>c </p> <p>Gropeer 9 sonne in groepe van 2.</p> <p>= ____ groepe en ____ bly oor</p>	<p>d </p> <p>Gropeer 16 telefone in groepe van 5.</p> <p>= ____ groepe en ____ bly oor</p>

3. Bewerkings: $\times 4$ en $\div 4$ (Met res, bv. = 5 res 1)

a. $4 \times 23 = \square$	b. $4 \times 17 = \square$
c. $25 \div 4 = \square$	d. $33 \div 4 = \square$

MEMORANDUM

- 1a) 216, 212, 208, 204, 200, 196, 192, 188, 184 1b) 452, 448, 444, 440, 436, 432, 428, 424, 420
 2a) 4 groepe 2b) 6 groepe 2c) 4 groepe en 1 bly oor. 2d) 3 groepe en 1 bly oor.
 3a) 92 3b) 68 3c) 6 res 1 3d) 8 res 1